


WISKUNDE Huiswerk Week 11

Maandag 13 Julie 2020


1. Tel 1, 5 en 10'e van 500-700.
2. Skryf die volgende getalsimbole:
Drie honderd vyf en twintig _____
Twee honderd vier en sewentig _____
Een honderd nege en tagtig _____
Ses honderd en twee _____
Vyf honderd en sestig _____
3. Skryf die getalname neer:
478 _____
296 _____
360 _____
412 _____
584 _____
4. Doen die volgende word somme:

By die skool

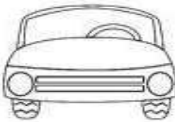
7. My leesboek het 15 bladsye. As ek 3 bladsye in 'n dag lees, hoeveel dae sal dit my neem om die boek klaar te lees?

Teken:  Skryf die getalsin: _____


_____ dae om die boek klaar te maak




8. 'n Klas met 16 kinders gaan op 'n uitstappie. As 4 kinders in 'n motor kan gaan, hoeveel motors sal hul nodig hê om almal te vervoer?

Teken:  Skryf die getalsin: _____

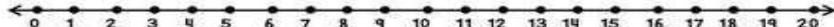
_____ motors



9. Ek het 13 potlode aan die begin van die jaar gehad. Ek het 6 potlode klaar gebruik en 2 potlode verloor. Hoeveel potlode het ek oor?

Teken:  Skryf die getalsin: _____

_____ potlode is oor



Dinsdag 14 Julie 2020

1. Tel in 2, 3 en 4's van 500-700.

2. Breek die volgende getalle op:

624= _____

351= _____

480= _____

297= _____

3. Bou die volgende getalle:


400+50+8= _____

200+70+6= _____






300+00+3= _____

100+90+9= _____

5. Voltooi die werkkartaat of teken die grafiek in jou boek.






 www.besteducation.co.za


Tel elke prentjie en kleur die blokkie onder in.

10
9
8
7
6
5
4
3
2
1
0

www.besteducation.co.za

				
---	---	---	---	---

 www.besteducation.co.za

Woensdag 15 Julie 2020

1. Tel terug vanaf 700-500.
2. Wat is die plekwaardes van die volgende getalle :

687= Waarde van 7- _____

Waarde van 8- _____

Waarde van 6 - _____

543= Waarde van 5- _____

Waarde van 4- _____

Waarde van 3- _____

3. Voltooi die volgende werkkaart:

Plekwaarde

Plekwaarde verwys die **plek**  van 'n syfer.

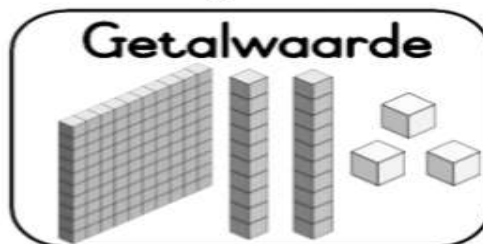


Benoem die plekwaarde van die onderstreepte syfer.

2 <u>1</u> 4 >	1 <u>3</u> 5 >	23 <u>3</u> >	<u>3</u> 46 >	4 <u>6</u> >
----------------------	----------------------	---------------------	---------------------	--------------------

Getalwaarde

Getalwaarde verwys die **waarde** van 'n syfer.



Benoem die getalwaarde van die onderstreepte syfer.

<u>1</u> 7 >	<u>2</u> 28 >	16 <u>3</u> >	3 <u>9</u> 1 >	2 <u>4</u> 6 >
--------------------	---------------------	---------------------	----------------------	----------------------

Donderdag 16 Julie 2020

1. Tel in 1, 2 en 5'e vanaf 300-500

2. Doen die volgende berekeninge, gebruik die opbreek metode:

$$132+123=$$

$$114+162=$$

$$194-122=$$

$$288-199=$$

3. Kan jy tyd lees?



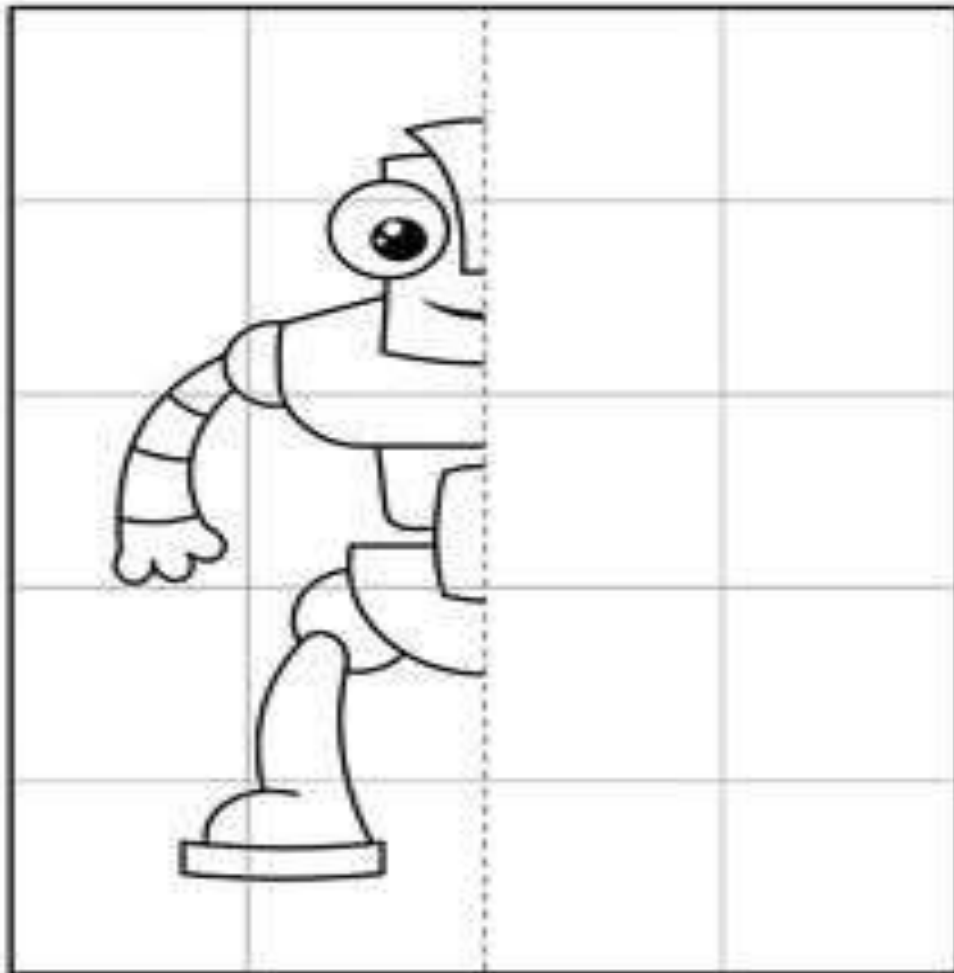
11:15



Vrydag 17 Julie 2020

1. Tel in 10's, 25's en 50's vanaf 200-500
Kyk rond in die huis of jy dalk 5 voorwerpe kan kry wat simmetries is.
Onthou simmetries is wanneer albei helftes presies dieselfde is.

Draw the Other side worksheet



© 2015-2020 www.kidsfun.com

Lekker naweek!!!! Pas jouself mooi op!!!